



basic education

Department:
Basic Education
REPUBLIC OF SOUTH AFRICA

SENIORSERTIFIKAAT-EKSAMEN/ NASIONALE SENIORSERTIFIKAAT-EKSAMEN

EKONOMIE V2

MEI/JUNIE 2024

PUNTE: 150

TYD: 2 uur

Hierdie vraestel bestaan uit 13 bladsye.

INSTRUKSIES EN INLIGTING

1. Beantwoord VIER vrae soos volg in die ANTWOORDEBOEK:

AFDELING A: VERPLIGTEND
AFDELING B: Beantwoord TWEE van die drie vrae.
AFDELING C: Beantwoord EEN van die twee vrae.
2. Beantwoord slegs die vereiste getal vrae. Addisionele antwoorde sal NIE nagesien word NIE.
3. Nommer die antwoorde korrek volgens die nommeringstelsel wat in hierdie vraestel gebruik is.
4. Skryf die vraagnommer boaan elke antwoord.
5. Lees die vrae aandagtig deur.
6. Begin ELKE vraag op 'n NUWE bladsy.
7. Laat 2–3 reëls tussen onderafdelings van vrae oop.
8. Beantwoord die vrae in volsinne en maak seker dat die formaat, inhoud en konteks van jou antwoorde aan die kognitiewe vereiste van die vrae voldoen.
9. Gebruik slegs swart of blou ink.
10. Jy mag 'n nieprogrammeerbare sakrekenaar gebruik.
11. Skryf netjies en leesbaar.

AFDELING A (VERPLIGTEND)**VRAAG 1****30 PUNTE – 20 MINUTE**

1.1 Verskeie opsies word as moontlike antwoorde op die volgende vrae gegee. Kies die antwoord en skryf slegs die letter (A–D) langs die vraagnommers (1.1.1 tot 1.1.8) in die ANTWOORDEBOEK neer, bv. 1.1.9 D.

1.1.1 Die waarde van insette wat 'n entrepreneur besit en in die produksieproses gebruik word, word ... koste genoem.

- A eksplisiete
- B implisiete
- C totale
- D gemiddelde

1.1.2 Wanneer gemiddelde inkomste groter as gemiddelde koste is, maak die firma 'n ...

- A ekonomiese verlies.
- B normale wins.
- C totale verlies.
- D ekonomiese wins.

1.1.3 'n Mark wat deur twee produsente gedomineer word, staan as 'n ... bekend.

- A duopolie
- B monopolie
- C oligopolie
- D trigopolie

1.1.4 Wanneer die mark misluk om die produkkombinasie te verskaf wat deur verbruikers benodig word, word dit ... ondoeltreffendheid genoem.

- A pareto-
- B produktiewe
- C toedelings-
- D tegniese

1.1.5 'n Indeks wat pryse van ingevoerde goedere meet soos dit die land binnekom, staan as ...-prysindeks bekend.

- A verbruikers
- B mandjie
- C mark
- D produsente

- 1.1.6 Godsdienstige geleenthede vorm deel van ... toerisme.
- A kulturele
 - B inklusiewe
 - C paleo-
 - D plaaslike
- 1.1.7 Daar word na natuurlike hulpbronne, wat sodanig bestuur word dat hulle vir huidige en toekomstige generasies beskikbaar is, verwys as ...
- A besoedeling.
 - B beskerming.
 - C bewaring.
 - D hernubaar.
- 1.1.8 Die internasionale ooreenkoms wat daarop gemik is om chemiese afval te verminder, word die ... genoem.
- A Kyoto Protokol
 - B Rio de Janeiro-beraad
 - C Stockholm Protokol
 - D Basel Konvensie
- (8 x 2) (16) ...

- 1.2 Kies 'n beskrywing uit KOLOM B wat by die item in KOLOM A pas. Skryf slegs die letter (A–I) langs die vraagnommers (1.2.1 tot 1.2.8) in die ANTWOORDEBOEK neer, bv. 1.2.9 J.

KOLOM A		KOLOM B	
1.2.1	Nywerheid	A	onder die markewewig vasgestel om goedere meer bekostigbaar te maak
1.2.2	Deregulasie	B	tradisies, rituele of musiek wat uniek is aan 'n gegewe kultuur of samelewing
1.2.3	Heterogene	C	'n situasie waar totale inkomste aan totale koste gelyk is
1.2.4	Maksimum prys	D	'n proses waardeur grond en rotse as gevolg van wind en water van die Aarde se oppervlak verwyder word
1.2.5	Kerninflasie	E	die verwydering van onnodige wette en regulasies wat mededinging in die mark beperk
1.2.6	Inheemse kennisstelsel	F	die som van alle individuele besighede wat 'n soortgelyke tipe produk produseer
1.2.7	Biodiversiteit	G	produkte wat verskil in voorkoms, grootte en gehalte
1.2.8	Erosie	H	sluit die items uit die VPI-mandjie uit wat hoogs onbestendig is of pryse wat deur owerheidsbeleid beïnvloed word
		I	'n verskeidenheid plant- en dierelewe binne 'n ekosisteem

(8 x 1) (8)

1.3 Gee EEN term vir ELK van die volgende beskrywings. Skryf slegs die term langs die vraagnommers (1.3.1. tot 1.3.6) in die ANTWOORDEBOEK neer. Afkortings, akronieme en voorbeelde sal NIE aanvaar word NIE.

1.3.1 Die koste wat onveranderd bly al verander die uitsette

1.3.2 Die addisionele inkomste verdien deur een addisionele eenheid van 'n produk te verkoop

1.3.3 Wanneer identiese goedere en dienste teen verskeie pryse aan verskillende verbruikers verkoop word

1.3.4 Lae groei, hoë werkloosheid en 'n hoë inflasiekoers wat terselfdertyd voorkom

1.3.5 Die aktiwiteit van mense wat reis na en in plekke bly anders as hulle gewone omgewing, vir nie meer as een jaar nie

1.3.6 Die toekenning van lisensies aan besighede om besoedeling tot 'n bepaalde limiet te beperk (6 x 1) (6)

TOTAAL AFDELING A: 30

AFDELING B

Beantwoord enige TWEE van die drie vrae in hierdie afdeling in die ANTWOORDEBOEK.

VRAAG 2: MIKRO-EKONOMIE**40 PUNTE – 30 MINUTE**

2.1 Beantwoord die volgende vrae.

2.1.1 Gee enige TWEE voorbeelde van vaste koste. (2 x 1) (2)

2.1.2 Waarom is die vraagkromme vir 'n individuele firma horisontaal in 'n volmaakte mark? (1 x 2) (2)

2.2 Lees die uittreksel hieronder en beantwoord die vrae wat volg.

ONDERSOEK NA DIE AANLYN MARK IN SUID-AFRIKA

In reaksie op die toenemende belangrikheid van die aanlyn ekonomie en mededinging het die Mededingingskommissie in 2021 'n ondersoek na mededinging en deelname aan die aanlyn ekonomie van stapel gestuur.

Die Mededingingskommissie het in Julie 2022 'n verslag vrygestel wat die gebrek aan doeltreffende mededinging van die fooie van toep('app')-ontwikkelaars wat tot hoë pryse lei beklemtoon het.

Die kommissie het aanbeveel dat sekere oorwegings oor betalingsopsies vir goedere en dienste in ag geneem moet word en hoe hulle pryse vasgestel word. Die saak is sedertdien na die Mededingingstribunaal verwys.

[Aangepas uit *Business Tech*]

2.2.1 Identifiseer EEN rede waarom 'n ondersoek na die aanlyn mark in Suid-Afrika van stapel gestuur is. (1)

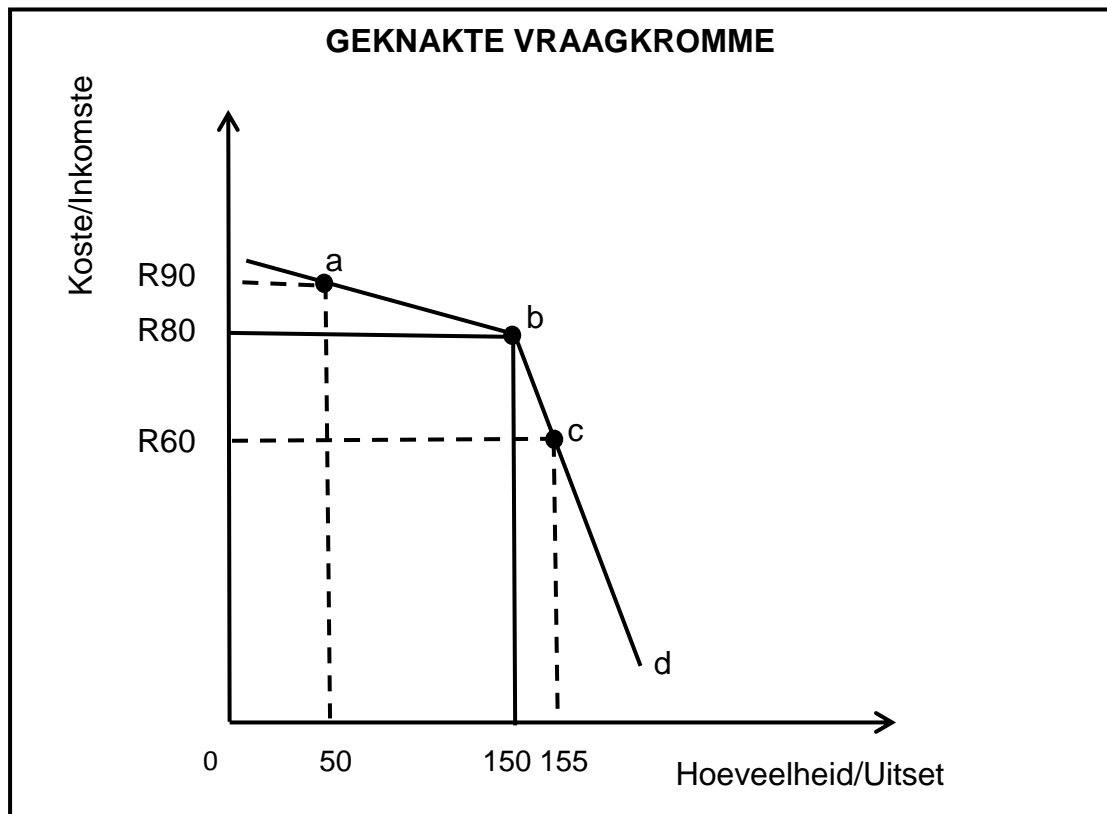
2.2.2 Noem die mededingingsinstelling wat 'n soortgelyke status het as dié van 'n hooggeregshof in Suid-Afrika. (1)

2.2.3 Beskryf kortliks die term *prysvasstelling*. (2)

2.2.4 Verduidelik die rol van die Mededingingstribunaal. (2)

2.2.5 Hoe het die Wet op Mededinging, 1998 (Wet 89 van 1998) Suid-Afrika bevoordeel? (2 x 2) (4)

2.3 Bestudeer die grafiek hieronder en beantwoord die vrae wat volg.



- 2.3.1 Identifiseer die markprys in die grafiek hierbo. (1)
- 2.3.2 Noem die tipe pryselastisiteit verteenwoordig deur die laagste deel (b–d) van die geknakte vraagkromme. (1)
- 2.3.3 Beskryf kortliks die term *oligopolie*. (2)
- 2.3.4 Verduidelik die impak van prys-mededinging op die oligopoliemark. (2)
- 2.3.5 Hoe kan firmas wat in 'n oligopoliemark werksaam is, hulle markaandeel vermeerder? (2 x 2) (4)
- 2.4 Onderskei tussen 'n *natuurlike monopolie* en 'n *kunsmatige monopolie*. (2 x 4) (8)
- 2.5 Ontleed die effek van toenemende mededinging op die mark. (4 x 2) (8)
- [40]**

VRAAG 3: KONTEMPORÊRE EKONOMIESE KWESSIES 40 PUNTE – 30 MINUTE

3.1 Beantwoord die volgende vrae.

3.1.1 Noem enige TWEE uitwerkings (effekte) van toerisme. (1 x 2) (2)

3.1.2 Waarom is besighede teësinnig (onwillig) om na meer omgewings-vriendelike produksiemetodes te verander? (1 x 2) (2)

3.2 Bestudeer die tabel hieronder en beantwoord die vrae wat volg.

TOERISME-ONTVANGSTE EN BESTEDING (Rm)					
	2017	2018	2019	2020	2021
INKOMENDE TOERISME					
Totale internasionale ontvangste	9 706	9 790	9 064	2 717	2 113
UITGAANDE TOERISME					
Totale internasionale besteding	6 068	6 348	5 866	1 594	1 669

[Aangepas uit [oced-library.org](https://www.ocado-library.org/)]

3.2.1 Identifiseer die term in die tabel hierbo wat verwys na toeriste wat ander lande besoek. (1)


3.2.2 Noem EEN maatstaf (manier) wat gebruik word om toerisme te meet. (1)

3.2.3 Beskryf kortliks die term *transito-toerisme*. (2)

3.2.4 Waarom verkies mense van ander lande Suid-Afrika as 'n toeristebestemming? (2)

3.2.5 Hoe kan 'n toename in toerisme-aktiwiteite die omgewing negatief beïnvloed? (2 x 2) (4)

3.3 Bestudeer die prent hieronder en beantwoord die vrae wat volg.



[Bron: www.istockphoto.com]

- | | | |
|-------|--|-------------|
| 3.3.1 | Watter tipe besoedeling word in die prent hierbo uitgebeeld? | (1) |
| 3.3.2 | Noem enige EEN voorbeeld van 'n hernubare bron van energie. | (1) |
| 3.3.3 | Beskryf kortliks die term <i>omgewingsvolhoubaarheid</i> . | (2) |
| 3.3.4 | Verduidelik die uitwerking van ontbossing op die omgewing. | (2) |
| 3.3.5 | Hoe kan besoedeling klimaatsverandering veroorsaak? | (2 x 2) (4) |
| 3.4 | Bespreek kortliks <i>bemarking</i> en <i>ruimtelike verspreiding</i> as beleidsvoorstelle om toerisme te bevorder. | (2 x 4) (8) |
| 3.5 | Hoe kan die heffing van belastings die volhoubare gebruik van die omgewing verseker? | (4 x 2) (8) |
| | | [40] |

VRAAG 4: MIKRO-EKONOMIE EN KONTEMPORÊRE EKONOMIESE KWESSIES

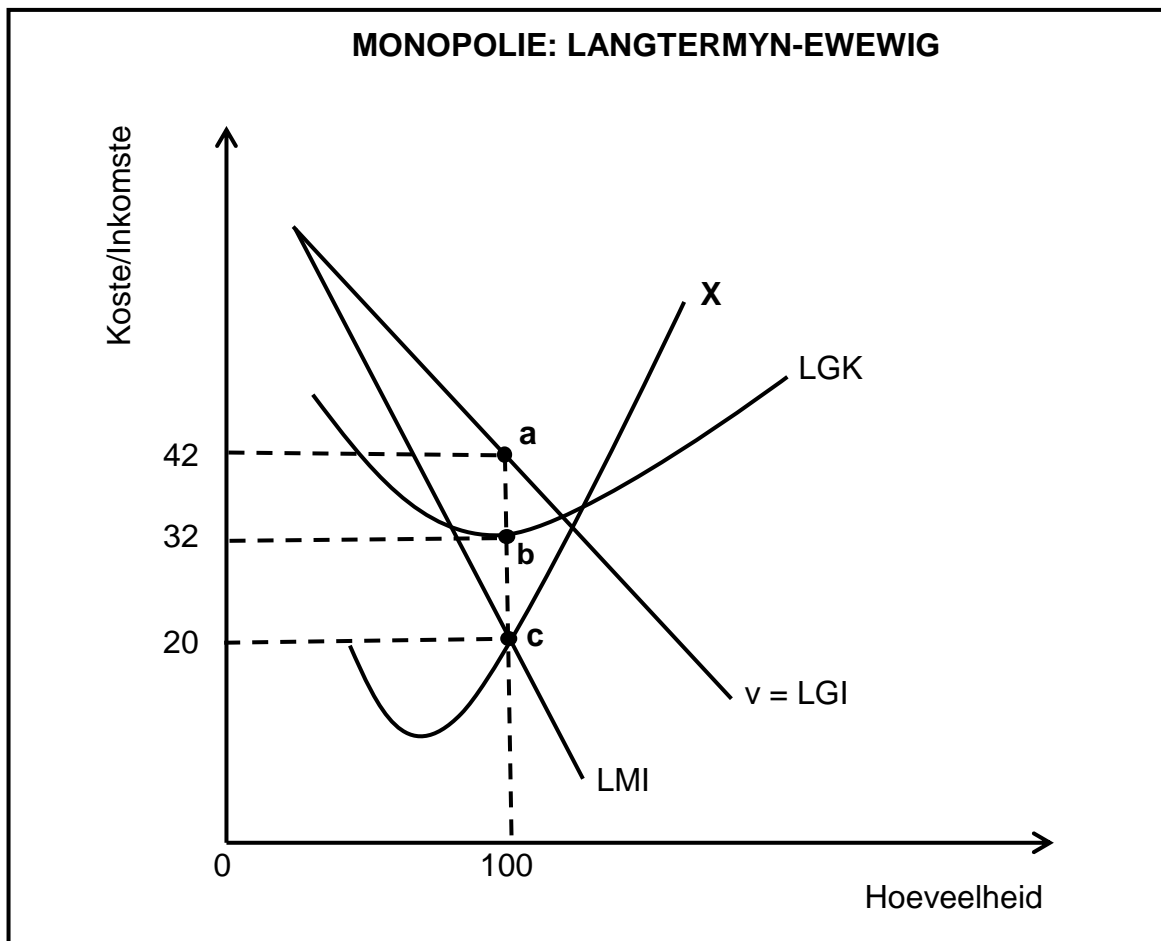
40 PUNTE – 30 MINUTE

4.1 Beantwoord die volgende vrae.

4.1.1 Noem enige TWEE Wêrelderfenisgebiede in Suid-Afrika. (2 x 1) (2)

4.1.2 Waarom sou 'n monopolie onwillig wees om buitensporige hoë pryse vir hulle produkte te vra? (1 x 2) (2)

4.2 Bestudeer die grafiek hieronder en beantwoord die vrae wat volg.



4.2.1 Identifiseer die byskrif vir die winsmaksimeringspunt in die grafiek hierbo. (1)

4.2.2 Gee 'n byskrif vir die kromme wat deur die letter **X** voorgestel word. (1)

4.2.3 Beskryf kortliks die term *langtermyn*. (2)

4.2.4 Waarom is die posisie van die marginale-inkomste(LMI)-kromme onder die gemiddelde-inkomste(LGI)-kromme? (2)

4.2.5 Bereken die wins/verlies wat die firma gemaak het. Toon ALLE berekeninge. (4)

4.3 Bestudeer die uittreksel hieronder en beantwoord die vrae wat volg.

VERLIES AAN BIODIVERSITEIT IS 'N WÊRELDVERSKYNSEL

Die verlies en agteruitgang van Suid-Afrika se biodiversiteit het ernstige implikasies vir die samelewing en die ekonomie.

Wêreldbiodiversiteit gaan baie vinniger verlore as natuurlike uitwissing weens, onder meer, veranderinge in grondgebruik, onvolhoubare gebruik van natuurlike hulpbronne, uitheemse indringerspesies, klimaatsverandering, bevolkingsgroei, stedelike ontwikkeling en besoedeling.

Suid-Afrika het 'n goed ontwikkelde en progressiewe beleidsraamwerk vir biodiversiteitsbestuur.

[Bron: www.google.co.za]

- 4.3.1 Identifiseer die term in die uittreksel wat na die vrystelling/verwydering van afvalmateriaal in die omgewing verwys. (1)
- 4.3.2 Watter internasionale ooreenkoms gee aandag aan die uitwissing van bedreigde spesies? (1)
- 4.3.3 Beskryf kortliks die term *bewaring*. (2)
- 4.3.4 Verduidelik die onvolhoubare gebruik van natuurlike hulpbronne as 'n bydraende faktor tot die verlies aan biodiversiteit. (2)
- 4.3.5 Waarom word gevaarlike afval as skadelik vir die omgewing beskou? (2 x 2) (4)
- 4.4 Met behulp van 'n goed benoemde grafiek, verduidelik normale wins vir 'n volmaak mededingende firma. (8)
- 4.5 Hoe bevorder infrastruktuur binnelandse toerisme in Suid-Afrika? (4 x 2) (8)
- [40]**

TOTAAL AFDELING B: 80

