



basic education

Department:
Basic Education
REPUBLIC OF SOUTH AFRICA

NASIONALE SENIOR SERTIFIKAAT

GRAAD 12

EKONOMIE V1
NOVEMBER 2024

PUNTE: 150

TYD: 2 uur

Hierdie vraestel bestaan uit 12 bladsye.

INSTRUKSIES EN INLIGTING

1. Beantwoord VIER vrae soos volg in die ANTWOORDEBOEK:

AFDELING A: VERPLIGTEND
AFDELING B: Beantwoord TWEE van die drie vrae.
AFDELING C: Beantwoord EEN van die twee vrae.
2. Beantwoord slegs die vereiste getal vrae. Addisionele antwoorde sal NIE nagesien word NIE.
3. Nommer die antwoorde korrek volgens die nommeringstelsel wat in hierdie vraestel gebruik is.
4. Skryf die vraagnommer boaan elke antwoord.
5. Lees die vrae aandagtig deur.
6. Begin ELKE vraag op 'n NUWE bladsy.
7. Laat 2–3 reëls tussen onderafdelings van vrae oop.
8. Beantwoord die vrae in volsinne en maak seker dat die formaat, inhoud en konteks van jou antwoorde aan die kognitiewe vereistes van die vrae voldoen.
9. Gebruik slegs swart of blou ink.
10. Jy mag 'n nieprogrammeerbare sakrekenaar gebruik.
11. Skryf netjies en leesbaar.

AFDELING A (VERPLIGTEND)**VRAAG 1****30 PUNTE – 20 MINUTE**

1.1 Verskeie opsies word as moontlike antwoorde op die volgende vrae gegee. Kies die antwoord en skryf slegs die letter (A–D) langs die vraagnommers (1.1.1 tot 1.1.8) in die ANTWOORDEBOEK neer, bv. 1.1.9 D.

1.1.1 Korttermynbesparings en -lenings word op die ...-mark verhandel.

- A kapitaal
- B buitelandsevaluta
- C faktor
- D geld

1.1.2 Advertensiespasie vir vakatures is 'n voorbeeld van 'n ... aanwyser.

- A sloerende
- B samevallende
- C leidende
- D saamgestelde

1.1.3 Die tekortereël verklaar dat tekorte op die begroting nie ... van die bruto binnelandse produk (BBP) moet oorskry nie.

- A 60%
- B 3%
- C 30%
- D 6%

1.1.4 Die verhouding van 'n land se uitvoerprysindeks tot sy invoerprysindeks staan as die ... bekend.

- A handelsbalans
- B wisselkoers
- C ruilvoet
- D rentekoers

1.1.5 'n Handelsbeleid wat sekere invoere beperk om onregverdige buitelandse mededinging vir plaaslike nywerhede te voorkom, word ... genoem.

- A beskerming
- B uitvoerbevordering
- C invoervervanging
- D vryhandel

1.1.6 Die vlak van 'n land se lewenstandaard word deur ... gemeet.

- A reële BBP
- B nominale BBP
- C nasionale inkome
- D BBP per capita

1.1.7 'n Internasionale maatstafkriterium vir streeksontwikkeling wat demokratiese besluitneming en deursigtigheid vereis, word ... genoem.

- A goeie staatsbeheer
- B integrasie
- C vennootskap
- D vryemarkoriëntering

1.1.8 Die waarskynlike aantal jare wat 'n persoon ná geboorte sal lewe, staan as ... bekend.

- A kindermortaliteit
- B lewensverwagting
- C onder-vyf-mortaliteit
- D bevolkingsgroei

(8 x 2) (16)

1.2 Kies 'n beskrywing uit KOLOM B wat by die item in KOLOM A pas. Skryf slegs die letter (A–I) langs die vraagnommers (1.2.1 tot 1.2.8) in die ANTWOORDEBOEK neer, bv. 1.2.9 J.

KOLOM A	KOLOM B
1.2.1 Faktorkoste	A 'n drie-jaar- aaneenlopende besteding- en inkomstevooruitskatting vir die owerheid
1.2.2 Bewegende gemiddelde	B 'n vorm van krediet wat deur die Internasionale Monetêre Fonds aan lande toegestaan word wat betalingsbalanstekorte ervaar
1.2.3 Mediumtermyn- bestedingsraamwerk	C beoog om armoede uit te skakel en ongelykheid teen 2030 te verminder
1.2.4 Spesiale Trekkingsregte	D metode om die onbekende te voorspel deur feite wat bekend is, te gebruik
1.2.5 Boikotte	E lok infrastruktuur en beleggings na afgeskepte en onderontwikkelde gebiede
1.2.6 Nasionale Ontwikkelingsplan	F bedrag vir die hulpbronne betaal wat gebruik word om goedere en dienste te produseer
1.2.7 Ruimtelike- ontwikkelingsinisiatiewe	G metode gebruik om korttermyn- skommeling in tydreeksdata uit te stryk
1.2.8 Verstedeliking	H die proses van die beweging van mense van plattelandse gebiede na stede en dorpe
	I vrywillige maatreëls geneem om nie met 'n sekere land handel te dryf nie

(8 x 1) (8)

- 1.3 Gee EEN term vir elk van die volgende beskrywings. Skryf slegs die term langs die vraagnommers (1.3.1 tot 1.3.6) in die ANTWOORDEBOEK neer. Afkortings, akronieme en voorbeelde sal NIE aanvaar word NIE.
- 1.3.1 Die vloei van goedere, dienste en produksiefaktore tussen die deelnemers aan die ekonomie
- 1.3.2 'n Kromme wat die inverse verhouding tussen werkloosheid en die inflasiekoers illustreer
- 1.3.3 Die oordrag van funksies en eienaarskap van entiteite vanaf die private sektor na die openbare sektor
- 1.3.4 Finansiële ondersteuning in die vorm van kontantbetalings voorsien deur die owerheid aan binnelandse produsente
- 1.3.5 Bedrywe wat meer arbeid as kapitaal in die produksieproses gebruik
- 1.3.6 Die ekonomiese aanwyser wat gebruik word om lewenskoste te meet (6 x 1) (6)
- TOTAAL AFDELING A: 30**

AFDELING B

Beantwoord enige TWEE van die drie vrae in hierdie afdeling in die ANTWOORDEBOEK.

VRAAG 2: MAKRO-EKONOMIE**40 PUNTE – 30 MINUTE**

2.1 Beantwoord die volgende vrae.

2.1.1 Noem enige TWEE metodes wat gebruik word om bruto binnelandse produk (BBP) te bereken. (2 x 1) (2)

2.1.2 Hoe kan mededinging totale aanbod in die ekonomie stimuleer? (1 x 2) (2)

2.2 Bestudeer die uittreksel hieronder en beantwoord die vrae wat volg.

OPENBARESEKTOR-MISLUKKING

In Suid-Afrika ly baie openbare entiteite as gevolg van bestuursmislukking. Organisasies is ondoeltreffend met dienslewering omdat hulle 'n gebrek aan 'n vaardige arbeidsmag het om take suksesvol te voltooi.

Dit lei tot dienste van 'n swak gehalte, soos hospitale wat 'n tekort aan medisyne ondervind. Daar is gevalle waar fondse onbestee gelaat word, selfs al is daar 'n desperate behoefte daaraan in gemeenskappe. Dit beteken dat geld aan die einde van die fiskale jaar aan die Nasionale Tesourie teruggegee word.

[Aangepas uit www.wikipedia.org]

2.2.1 Identifiseer EEN rede vir openbaresektor-mislukking in die uittreksel hierbo. (1)

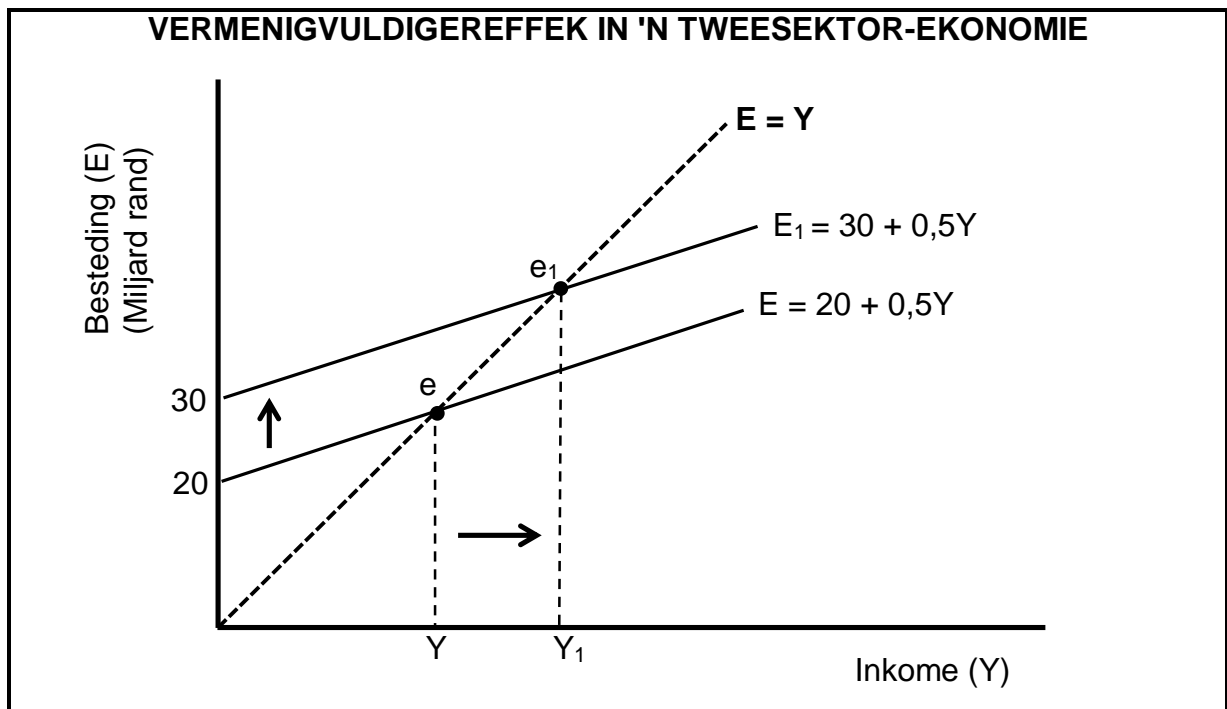
2.2.2 Noem die vlak van die owerheid wat vir die voorsiening van dienste, soos vullisverwydering, verantwoordelik is. (1)

2.2.3 Beskryf kortliks die term *aanspreeklikheid*. (2)

2.2.4 Verduidelik die uitwerking van openbaresektor-mislukking op die toekenning van hulpbronne. (2)

2.2.5 Waarom is dit noodsaaklik vir die owerheid om belasting op niemerietegoedere te hef? (2 x 2) (4)

2.3 Bestudeer die grafiek hieronder en beantwoord die vrae wat volg.



- 2.3.1 Identifiseer die waarde van die marginale verbruiksgeneigdheid (MVG) in die grafiek hierbo. (1)
- 2.3.2 Noem enige EEN deelnemer aan 'n tweesektor-ekonomie. (1)
- 2.3.3 Beskryf kortliks die term *outonome verbruik*. (2)
- 2.3.4 Verduidelik die verhouding tussen marginale spaargeneigdheid (MSG) en die waarde van die vermenigvuldiger (K). (2)
- 2.3.5 Gebruik die inligting in die grafiek hierbo om die verandering in nasionale inkome (ΔY) te bereken. Toon ALLE berekeninge. (4)
- 2.4 Bespreek die eksogene (monetaristiese) verduidelikings van 'n sakesiklus. (4 x 2) (8)
- 2.5 Hoe kan die makro-ekonomiese doelwit van prysstabiliteit die Suid-Afrikaanse ekonomie positief beïnvloed? (4 x 2) (8)
- [40]**

VRAAG 3: EKONOMIESE STREWES**40 PUNTE – 30 MINUTE**

3.1 Beantwoord die volgende vrae.

3.1.1 Noem enige TWEE lande wat deel is van die Suider-Afrikaanse Ontwikkelingsgemeenskap (SAOG). (2 x 1) (2)

3.1.2 Hoe kan Breë-Basis Swart Ekonomiese Bemagtiging (BBSEB) help om nywerheidsontwikkeling te bevorder? (1 x 2) (2)

3.2 Bestudeer die uittreksel hieronder en beantwoord die vrae wat volg.

SUID-AFRIKA SE NYWERHEIDSONTWIKKELING-STRATEGIEË

Ter erkenning van die belangrikheid van vervaardiging in die ekonomie is twee strategieë ontwikkel, naamlik die Nasionale Navorsing- en Ontwikkelingstrategie (NNOS) en die Geïntegreerde Vervaardigingstrategie (GVS).

Suid-Afrika het 'n teiken van 1,5% van bruto-binnelandse-produk(BBP)-besteding op navorsing en ontwikkeling gestel. Hierdie investerings het egter van 0,75% in 2018/19 tot 0,60% in 2021/22 verminder.

[Aangepaste uit OECD, September 2023]

3.2.1 Identifiseer die nywerheidsontwikkelingstrategie wat ten doel het om die mededingendheid van die vervaardigingsektor te verbeter. (1)


3.2.2 Noem die staatsdepartement wat vir die bevordering van nywerheidsontwikkeling verantwoordelik is. (1)

3.2.3 Beskryf kortliks die term *belastingvrye aansporings*. (2)

3.2.4 Verduidelik die belangrikheid van korridors om streeksontwikkeling te bevorder. (2)

3.2.5 Hoe kan Suid-Afrikaanse besighede voordeel trek uit die Nasionale Navorsing- en Ontwikkelingstrategie (NNOS)? (2 x 2) (4)

3.3 Bestudeer die grafiek hieronder en beantwoord die vrae wat volg.



[Bron: www.ceicdata.com]

- 3.3.1 Identifiseer die persentasieverandering in Suid-Afrika se arbeidsproduktiwiteit in die vierde kwartaal van 2022. (1)
- 3.3.2 Noem EEN ander ekonomiese aanwyser wat met produktiwiteit verband hou. (1)
- 3.3.3 Beskryf kortliks die term *ekonomiese aanwyser*. (2)
- 3.3.4 Waarom is toegang tot gesondheidsorgdienste belangrik vir die arbeidsmag? (2)
- 3.3.5 Hoe kan 'n afname in arbeidsproduktiwiteit 'n impak op die ekonomie hê? (2 x 2) (4)
- 3.4 Bespreek die voordele van invoervervanging vir die Suid-Afrikaanse ekonomie. (4 x 2) (8)
- 3.5 Ontleed die uitdagings waarvoor Suid-Afrika te staan kom om nywerheidsontwikkeling deur die verskillende beleide te bevorder. (4 x 2) (8)

[40]

VRAAG 4: MAKRO-EKONOMIE EN EKONOMIESE STREWES**40 PUNTE – 30 MINUTE**

4.1 Beantwoord die volgende vrae.

4.1.1 Noem enige TWEE ekonomiese aanwysers wat met indiensneming verband hou. (2 x 1) (2)

4.1.2 Hoe kan die owerheid die makro-ekonomiese doelwit van ekonomiese gelykheid in Suid-Afrika bereik? (1 x 2) (2)

4.2 Bestudeer die tabel hieronder en beantwoord die vrae wat volg.

SAKESIKLUSSE VAN SUID-AFRIKA VANAF 1999			
Opswaai	Duur in maande	Afswaai	Duur in maande
Sept. 1999 tot Nov. 2007	99	Des. 2007 tot Aug. 2009	21
Sept. 2009 tot Nov. 2013	51	Des. 2013 tot Apr. 2017	41
Mei 2017 tot Jun. 2019	26	Jul. 2019 tot Apr. 2020	10

[Aangepas uit SARB Kwartaallikse Bulletin, Desember 2023]

4.2.1 Identifiseer die periode waarin Suid-Afrika die langste afswaai ervaar het. (1)


4.2.2 Noem die draaipunt van 'n sakesiklus wat met die hoogste vlak van inflasie geassosieer word. (1)

4.2.3 Beskryf kortliks die term *amplitude*. (2)

4.2.4 Verduidelik die belangrikheid van die tendenslyn by die vooruitskatting van sakesiklusse. (2)

4.2.5 Hoe kan 'n ekonomiese resessie huishoudings in die ekonomie beïnvloed? (2 x 2) (4)

4.3 Bestudeer die spotprent hieronder en beantwoord die vrae wat volg.



[Aangepas uit www.guyparsons.com]

- | | | |
|-------|---|-------------|
| 4.3.1 | Identifiseer 'n handelsbeperking wat verwys na belasting wat op ingevoerde goedere gehef word. | (1) |
| 4.3.2 | Noem die internasionale organisasie wat die verwydering van handelsbeperkings tussen lande bevorder. | (1) |
| 4.3.3 | Beskryf kortliks die term <i>embargo</i> . | (2) |
| 4.3.4 | Verduidelik die belangrikheid daarvan om suigeling-nywerhede teen buitelandse mededinging te beskerm. | (2) |
| 4.3.5 | Hoe kan die ekonomie voordeel trek uit spesialisering in die produksie van 'n spesifieke produk?
(2 x 2) | (4) |
| 4.4 | Bespreek die sosiale aanwysers wat met voeding verband hou.
(4 x 2) | (8) |
| 4.5 | Hoe kan 'n toename in inspuittings positief tot die Suid-Afrikaanse ekonomie bydra?
(4 x 2) | (8) |
| | | [40] |

TOTAAL AFDELING B: 80

AFDELING C

Beantwoord enige EEN van die twee vrae in hierdie afdeling in die ANTWOORDEBOEK.

Jou antwoord sal soos volg geassesseer word:

STRUKTUUR VAN OPSTEL	PUNTE-TOEKENNING
Inleiding Die inleiding is 'n laerorde-antwoord. <ul style="list-style-type: none"> • 'n Goeie begin is om die sleutelkonsep wat met die vraag verband hou, te definieer of te omskryf. • MOENIE enige deel van die vraag by die inleiding insluit NIE. • MOENIE enige deel van die inleiding by die liggaam herhaal NIE. • MOENIE in die inleiding noem wat jy in die liggaam gaan bespreek NIE. 	Maks. 2
Liggaam Hoofdeel: Bespreek in detail/Diepgaande bespreking/Ondersoek/ Bespreek krities/Analiseer/Vergelyk/Evalueer/Oonderskei/Differensieer/ Verduidelik/Assesseer/Debatteer 'n Maksimum van 8 punte kan vir opskrifte/voorbeelde toegeken word. Addisionele deel: Bespreek krities/Evalueer/Evalueer krities/Lei af/ Vergelyk/Oonderskei/Stel voor/Interpreteer/Debatteer/Hoe 'n Maksimum van 2 punte kan vir die blote noem van feite toegeken word.	Maks. 26 Maks. 10
Slot Enige hoërorde-slot behoort die volgende in te sluit: <ul style="list-style-type: none"> • 'n Kort samevatting van wat alreeds bespreek is, sonder die herhaling van feite wat reeds genoem is • Enige mening/opinie of waardeoordeel oor die feite wat bespreek is • Addisionele ondersteuningsinligting wat die bespreking/analise versterk • 'n Teenstrydige sienswyse met motivering, indien gevra • Aanbevelings 	Maks. 2
TOTAAL	40

VRAAG 5: MAKRO-EKONOMIE

40 PUNTE – 40 MINUTE

- Bespreek in detail die redes vir internasionale handel. (26)
 - Ontleed die impak van 'n swakker geldeenheid (rand) op die Suid-Afrikaanse ekonomie. (10)
- [40]**

VRAAG 6: EKONOMIESE STREWES

40 PUNTE – 40 MINUTE

- Bespreek in detail die vraagkantbenadering in die bevordering van ekonomiese groei en ontwikkeling in Suid-Afrika (26)
 - Ontleed die belangrikheid vir die Suid-Afrikaanse ekonomie om klein besighede te bevorder. (10)
- [40]**

TOTAAL AFDELING C: 40
GROOTTOTAAL: 150